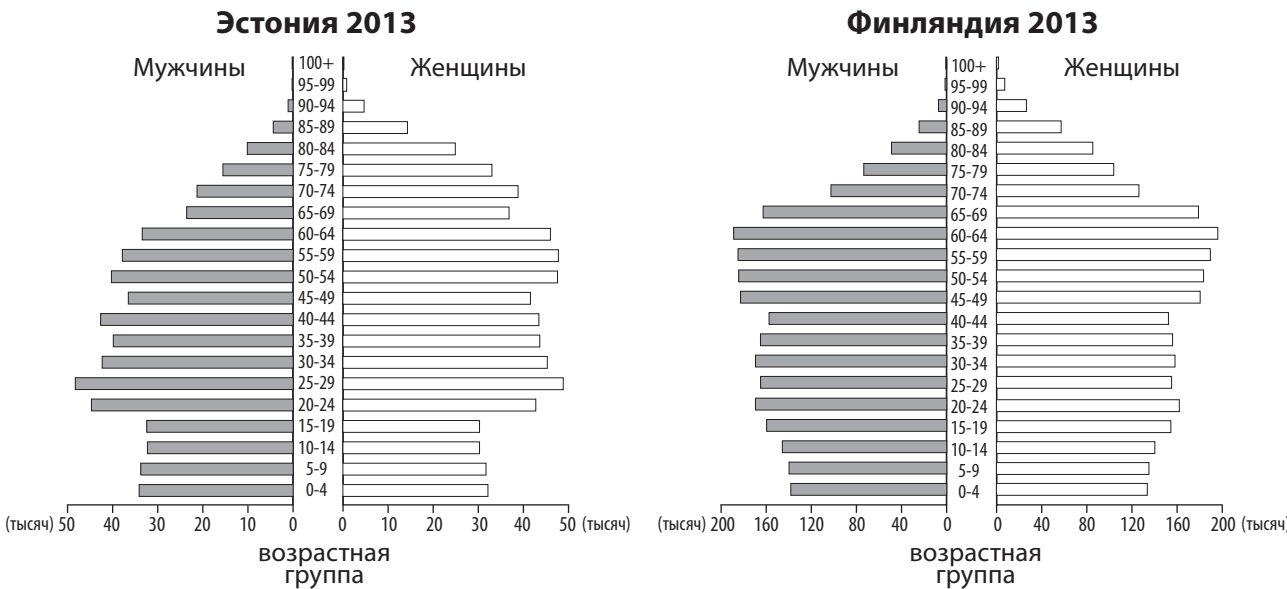


8. Назови две осадочные породы, встречающиеся в Эстонии.

1) _____ 2) _____

9. Как геологи изучают горные породы, расположенные **глубоко в земной коре**?

10. Сравни население Эстонии и Финляндии на основе пирамид населения. Укажи три существенных различия.



1) _____

2) _____

3) _____

В чем сходство половозрастной структуры населения Эстонии и Финляндии?

11. Население Европы, в том числе Эстонии, стареет. Объясни, что это значит?

12. Сейчас из Эстонии выезжает больше людей, чем въезжает в нее. Почему люди эмигрируют из Эстонии?

1) _____

2) _____

13. В 2011 году в Эстонии прошла перепись населения. Зачем проводятся переписи населения?

Täidab
hindaja

2 p 29

1 p 30

SA INNOVE

ВЫПУСКНОЙ ЭКЗАМЕН ПО ГЕОГРАФИИ

11. ИЮНЯ 2014

Баллы	
Экзаменационная оценка	
Годовая оценка	

Имя и фамилия: _____

Личный код: _____

Школа: _____

Уезд/город: _____

ПАМЯТКА

1. Ответы пиши ясным почерком, шариковой или чернильной ручкой.
2. При необходимости исправления зачеркни ту часть ответа, которая не должна оцениваться. Не разрешается пользоваться ручкой-корректором.
3. Квадратики рядом с вопросами заполняет учитель.
4. **Перед тем как отвечать, внимательно прочти и обдумай текст задания. Свои ответы записывай коротко и ясно.**
5. Спокойно обдумывай ответы, не торопись – в твоём распоряжении 150 минут (на I и II часть вместе).

I ЧАСТЬ

Внимание! При выполнении заданий I части нельзя пользоваться атласом.

1. Подпиши на карте в правильном месте названия перечисленных географических объектов.



Восточно-Европейская
равнина 0,5 p 1

Пиренейские горы 0,5 p 2

Ютландский полуостров 0,5 p 3

Апеннинский полуостров 0,5 p 4

Река Дунай 0,5 p 5

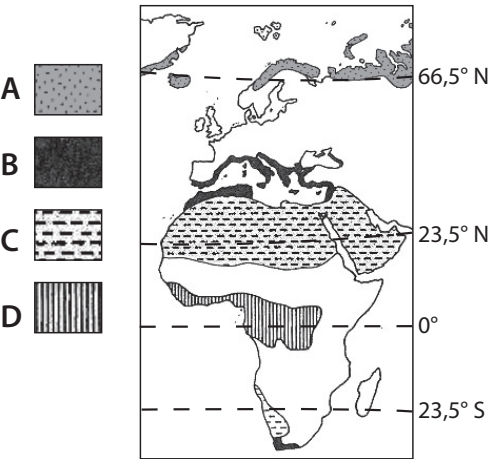
Гибралтарский пролив 0,5 p 6

Пролив Ла-Манш 0,5 p 7

Остров Готланд 0,5 p 8

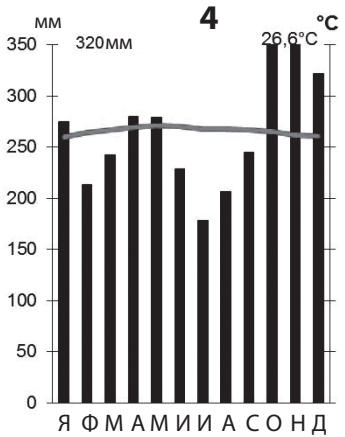
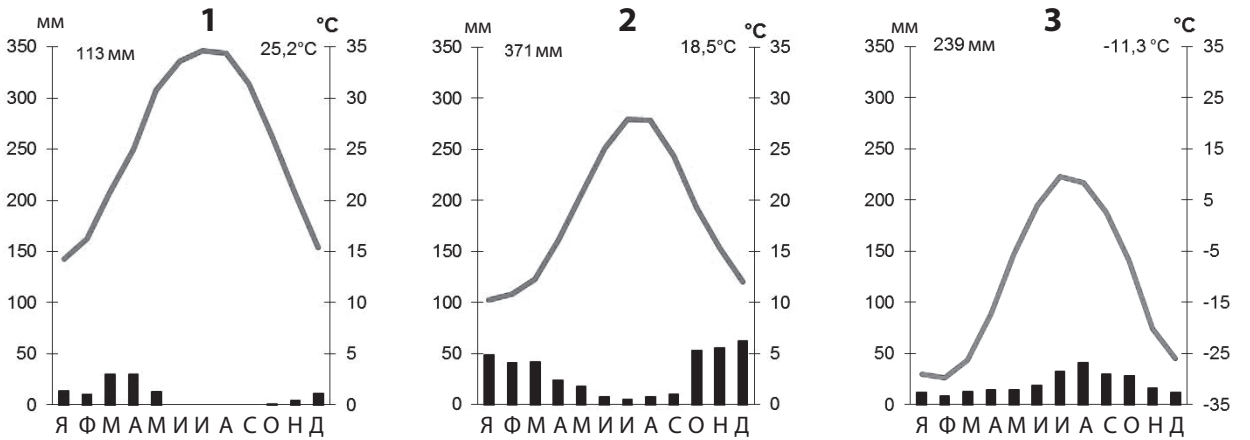
Täidab
hindaja

2. Какие природные зоны отмечены на рисунке буквами **A**, **C** и **D**? Запиши в таблицу названия природных зон.



Область на карте	Природная зона	Номер климатической диаграммы
A		9
B	Средиземноморские леса и кустарники	13
C		10
D		11

Для каких природных зон характерны эти климатические диаграммы (**1–4**)? Запиши в таблицу номер соответствующей диаграммы.



Опиши климат местности, соответствующей диаграмме **4**.

3. Почему природные зоны сменяются на Земле от полюсов к экватору?

Täidab hindaja

1 p

9

1 p

10

1 p

11

1 p

12

1 p

13

1 p

14

1 p

15

SA INNOVE

3 p

16

1 p

17

4. Найди в перечне факты, характерные для саванны. Отметь подходящие варианты **X**-ом.

☐ Из-за многолетней мерзлоты большие площади заболочены.

☐ В течение всего года господствует жаркий и влажный климат.

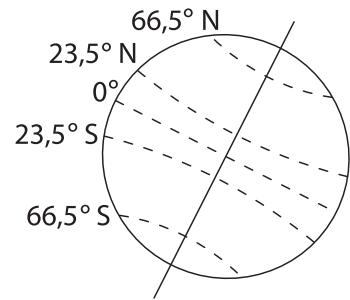
☐ Многие реки часть года полноводны, но в другую часть года пересыхают.

☐ Солнце в течение всего года поднимается высоко, среднемесячные температуры 20–30°C.

☐ В летнее полугодие господствует полярный день.

5. Объясни, что значит выражение «солнце в зените»?

Когда солнце находится в зените на экваторе? Отметь правильный ответ **X**-ом.



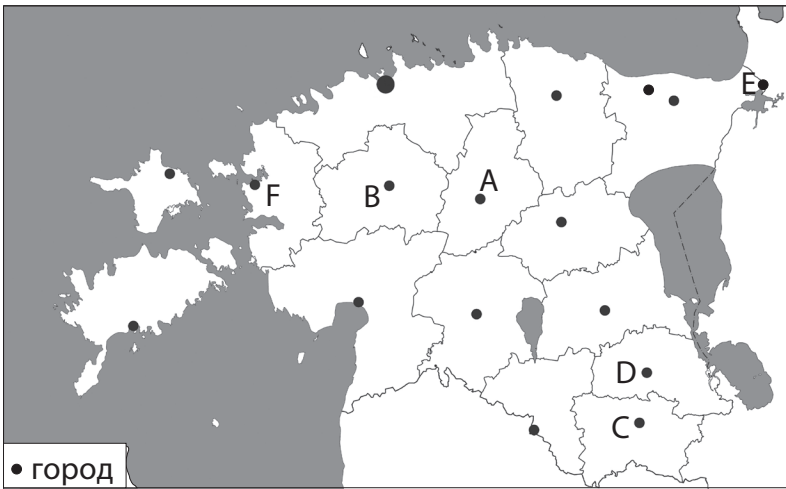
☐ круглый год каждый день в 12.00

☐ в день летнего солнцестояния в 12.00

☐ в дни весеннего и осеннего равноденствия в полдень

☐ в день зимнего солнцестояния в 12.00

6. Напиши названия уездов и городов, отмеченных на карте Эстонии буквами **A–F**.



A (уезд)

B (уезд)

C (уезд)

D (город)

E (город)

F (город)

7. Почему в осадочных породах встречаются окаменелости, а в магматических породах их нет?

В осадочных породах встречаются окаменелости, так как

В магматических породах нет окаменелостей, так как

Täidab hindaja

2 p

18

1 p

19

1 p

20

0,5 p

21

0,5 p

22

0,5 p

23

0,5 p

24

0,5 p

25

0,5 p

26

1 p

27

1 p

28